

רמה 2

1 כתבו מתחת לתווים ולהפסקות את ערכם הריתמי ואת אורכם בפעמות.

דוגמה:



חצי
לחץ גממות

2 שמעו את ההקלטות באתר והתאימו בין מספרי ההקלטות לקצב הכתוב בתווים.




הקלטה מספר _____



הקלטה מספר _____



הקלטה מספר _____



הקלטה מספר _____



3 שמעו את ההקלטות באתר וכתבו את המשקל של כל הקלטה.

דוגמה: הקלטה מספר 1 במשקל של $\frac{3}{4}$ הקלטה מספר 2 במשקל של _____


הקלטה מספר 3 במשקל של _____ הקלטה מספר 4 במשקל של _____

הקלטה מספר 5 במשקל של _____ הקלטה מספר 6 במשקל של _____

4 הוסיפו לתווים קווי תיבה.



5 קראו את הקצב בשירה או בנגינה. היעזרו במטרונום.



הפיתרון לתרגול נמצא באתר למנגן ביחד עם תרגולים ושיעורי תיאוריה נוספים.
 היכנסו ל"תיאוריה מוסיקלית" באתר (www.lamenagen.com) ותהנו משיעורי תיאוריה ללא עלות.
 אתם מוזמנים לפנות אלינו דרך המייל: lamenagen@gmail.com